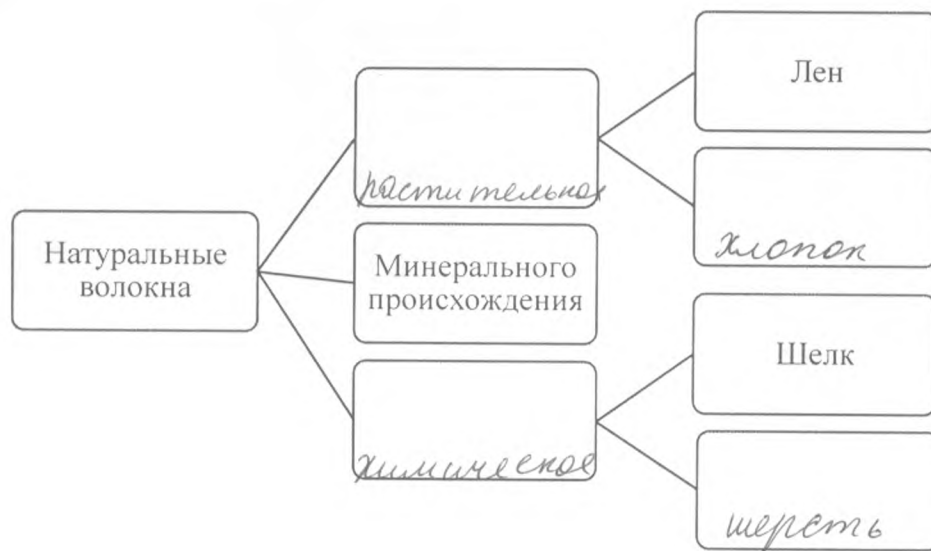


1. Впишите в определение нужное слово из скобок.

Технология - это способ преобразования вещества, энергии, информации в процессе изготовления продукции (продажи, изготовления, проектирования).

2. Впишите нужные слова в пустые места классификации натуральных текстильных волокон.



3. Установите правильное соответствие между словами и их определениями.

1

1	Углеводы	А	Строительный материал клеток и тканей организма
2	Жиры	Б	Главный поставщик энергии для организма, способствующий лучшему усвоению пищи
3	Белки	В	Вещества, необходимые для роста и жизнеспособности организма
4	Витамины	Г	Источник энергии, улучшающий вкус пищи и вызывающий чувство сытости

Ответ: 1 - Б, 2 - А, 3 - В, 4 - Г

4. Какие бытовые электроприборы размещаются на кухне? Напишите их названия.

- 1) микроволновая печь  
 2) чайник  
 3) холодильник  
 4) посудомойка

5. Выберите из предложенного списка техники работы с тканью.




- а) оригами;  
 б) пэчворк;  
 в) батик;  
 г) квиллинг.

6. В рассказе Константина Паустовского «Корзина с еловыми шишками» описывается интерьер комнаты: «На стенах висели картины, вырезанные из книг и журналов: кавалеры

времен Людовика XIV, красавицы в кринолинах, рыцари, русские женщины в сарафанах, матросы и викинги с дубовыми венками на головах». Что такое кринолин?

- а) тип платья;  
 б) каркас для юбки;  
 в) название ткани;  
 г) головной убор.

7. Как называются народные промыслы, изображенные на картинках?

		
<p>А <u>гжеликовская</u></p>	<p>Б <u>хохлома</u></p>	<p>В <u>жостовская</u></p>

### 8. Творческое задание.

Этот предмет одежды можно найти и в женском, и в детском гардеробе, но все же он считается атрибутом мужской одежды. Коллекционеров этих предметов называют грабатологистами. Этот предмет бывает всех форм и размеров, цветов и узоров.




Определите, о каком предмете мужского гардероба идет речь, и впишите это слово в пустые клетки

Г а л с т у к

Подумайте, что могут носить современные мужчины вместо данного аксессуара, укажите его название и зарисуйте на предложенной фигуре.

Baderna

1



3